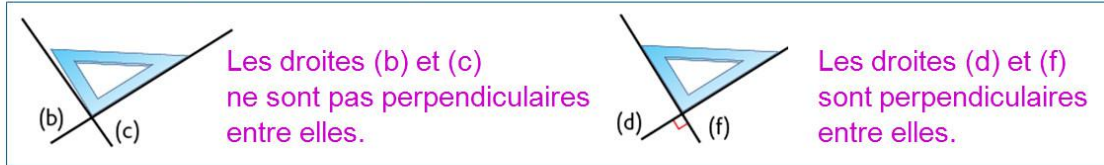


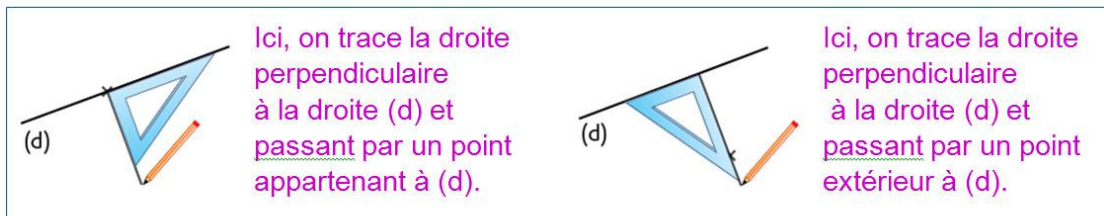
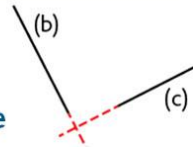
Identifier et tracer des droites perpendiculaires

- **Deux droites sont perpendiculaires** si elles se coupent **en formant un angle droit**. Pour le vérifier, on utilise **une équerre**.



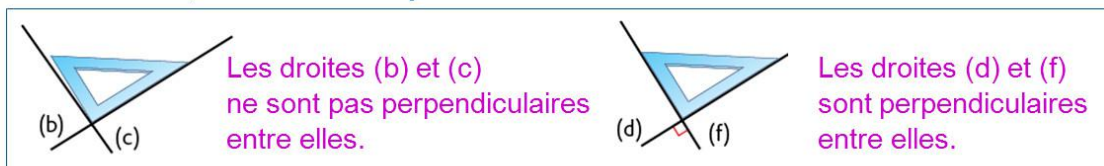
Si deux droites ne se coupent pas de façon visible sur la feuille, on peut les prolonger pour vérifier si elles sont perpendiculaires entre elles.

- **Pour tracer une droite perpendiculaire** à une autre, on utilise **l'équerre**



Identifier et tracer des droites perpendiculaires

- **Deux droites sont perpendiculaires** si elles se coupent **en formant un angle droit**. Pour le vérifier, on utilise **une équerre**.



Si deux droites ne se coupent pas de façon visible sur la feuille, on peut les prolonger pour vérifier si elles sont perpendiculaires entre elles.

- **Pour tracer une droite perpendiculaire** à une autre, on utilise **l'équerre**

